

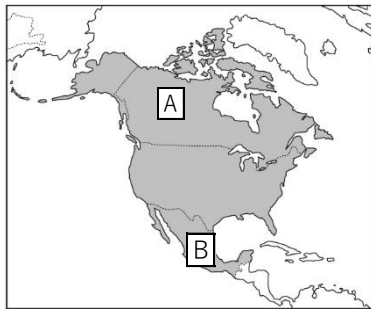
基本問題

- ① カナダからアメリカ合衆国にかけてのびている、北アメリカの西部に位置する高く険しい山脈を何というか。
- ② ①の山脈の東側から西経 100 度付近まで、カナダ南部からアメリカ合衆国に広がる乾燥した大平原を何というか。
- ③ 土壌が豊かで小麦、とうもろこし、大豆などの世界的産地で、②よりも東側にある大平原を何というか。
- ④ 主にミシシッピ川流域にあり、アパラチア山脈の西に広がる広大な平原を何というか。
- ⑤ 北アメリカ大陸に、ヨーロッパ系の人々が来る前から暮らしていた先住民を何というか。
- ⑥ メキシコ湾岸や東海岸に大きな被害を与えることがある、夏から秋にかけて発生する暴風をともなう熱帯低気圧を何というか。
- ⑦ メキシコやカリブ海諸国などから移住してくる、スペイン語を話す人々は何とよばれるか。
- ⑧ アメリカ合衆国の北側にあり、面積が世界第2位の広さを持つ国は何か。

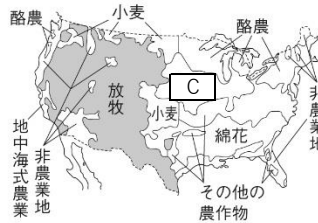
①	ロッキー山脈	②	グレートプレーンズ	③	プレーリー	④	中央平原
⑤	ネイティブアメリカン	⑥	ハリケーン	⑦	ヒスパニック	⑧	カナダ

発展問題

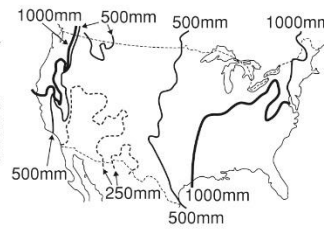
地図



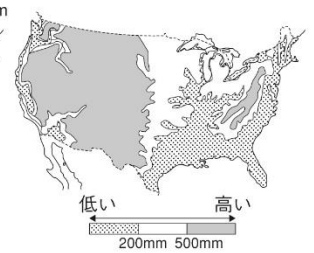
資料1 農業地域



資料2 年降水量



資料3 標高



- ① 地図中の A と B の国名をそれぞれ書きなさい。
- ② アメリカの首都はどこか、書きなさい。
- ③ B の国などからアメリカに移住してくるスペイン語を話す人々は何とよばれるか。
- ④ 資料1中のCの地域で主に生産されている農産物は何か。次の【 】の中から1つ選んで書きなさい。
【 米 さとうきび とうもろこし オレンジ 】
- ⑤ 資料1中のアメリカで、肉牛などの放牧が盛んな地域は、どのような地域であるか。資料2, 3を参考に書きなさい。
- ⑥ 資料1中のアメリカで、綿花の栽培が盛んな地域は、どのような地域であるか。資料2, 3を参考にし書きなさい。
- ⑦ アメリカなどで生産が盛んな綿花は、何の原料(材料)となる農産物か、書きなさい。

①	A	カナダ	B	メキシコ	②	ワシントンD.C.	③	ヒスパニック
④	とうもろこし		⑤	(例) 降水量が少なく、標高が高い地域。				
⑥	(例) 降水量が多く、標高が低い地域。					⑦	(例) 衣料品	